

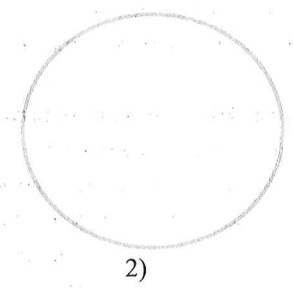
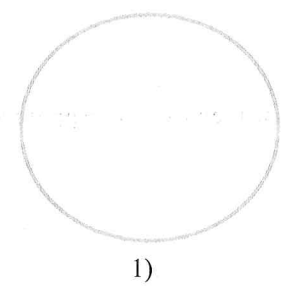
ИНТЕЛЛЕКТУАЛЬНЫЙ МАРАФОН
ЗДОРОВЬЕСБЕРЕГАЮЩЕЙ НАПРАВЛЕННОСТИ – 2018
 (для обучающихся начальной школы)

4 класс

11. Прогулка по лесу очень полезна. Но не нужно забывать, что в лесу нас могут подстеречь опасности. Напиши два правила безопасного поведения в лесу и нарисуй условные знаки к ним.

1) _____

2) _____



12. Рассмотрите знаки, изображённые на рисунках.



1)



2)



3)

Какое правило отражает каждый из этих знаков? Напиши эти правила.

Правило 1: _____

Правило 2: _____

Правило 3: _____

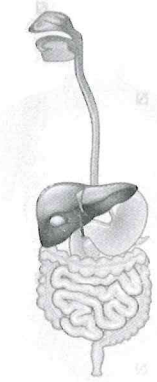
1. Соотнеси названия органов и частей тела человека и выполняемые ими функции. В таблице для ответа под каждой буквой напиши цифру, которая ей соответствует.

- | | |
|------------|-----------------------|
| а) почки | 1) переваривание пищи |
| б) мышцы | 2) дыхание |
| в) желудок | 3) выделение |
| г) лёгкие | 4) движение |

Ответ:

а	б	в	г

2. На рисунке изображена система органов пищеварения. Поставь стрелки и отметь цифрами: 1. Глотка. 2. Пищевод. 3. Желудок. 4. Кишечник



3. Допиши:

- Глаз – орган _____
Нос – орган _____
Язык – орган _____
Кожа – орган _____
Ухо – орган _____

4. Составь два правила сохранения здоровья человека. Для этого соотнеси фразы первого и второго столбца.

- | Начало фразы | Продолжение фразы |
|------------------------------|------------------------------------------------|
| а) Чтобы не заболеть гриппом | 1) не принимай лекарства без назначения врача. |
| б) Чтобы избежать отравления | 2) проветривай помещение |
| | 3) сделай прививку |

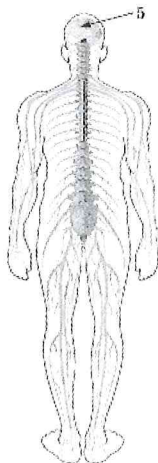
Запиши в таблицу выбранные цифры под соответствующими буквами.

Ответ:

Начало фразы	а	б
Продолжение фразы		

5. Напиши, какой орган нервной системы обозначен на рисунке цифрой

«5» _____



Напиши, какую работу он выполняет:

6. Ты часто слышишь фразу: «Нужно дышать через нос». Что происходит с воздухом в носовой полости?

- а) легче проходит воздух
- б) воздух согревается
- в) воздух охлаждается
- г) воздух очищается от пыли

7. Чего НЕ следует делать, если в доме загорелась электропроводка (электрические провода)?

- а) вызвать пожарных по телефону 112 или 01
- б) пытаться потушить горящую розетку водой
- в) отключить все электроприборы
- г) звать на помощь

8. На автобусной остановке школьник увидел оставленный без присмотра багаж. Что ему следует сделать?

- а) отодвинуть багаж, чтобы он не мешал другим пассажирам
- б) сообщить о находке друзьям, которые стоят рядом
- в) вызвать полицию
- г) занести багаж в салон автобуса

9. Если в помещении ты почувствовал запах газа, то как тебе следует поступить?

- а) вызвать газовую службу
- б) открыть все окна и двери
- в) включить свет
- г) перекрыть газ с помощью крана на газовой трубе

10. Что нужно делать, если увидишь, что во дворе дети пытаются разжечь огонь?

- а) объяснить, что это опасно
- б) быстро пробежать мимо
- в) попытаться переключить их внимание на другое занятие
- г) позвать взрослых